

TRIGONOMETRIE ET FONCTIONS CIRCULAIRES

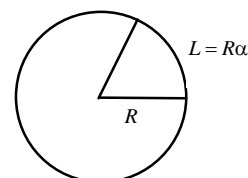
I) Le radian

Le radian est une unité de mesure des angles choisie de façon que l'angle plat (180°) mesure π radians.

Ainsi, un arc de cercle de rayon R et d'angle α (en radians) a pour longueur : $L = \alpha R$

Le tableau de proportionnalité ci-dessous permet de convertir un angle de x degrés en un angle de α radians (ou inversement).

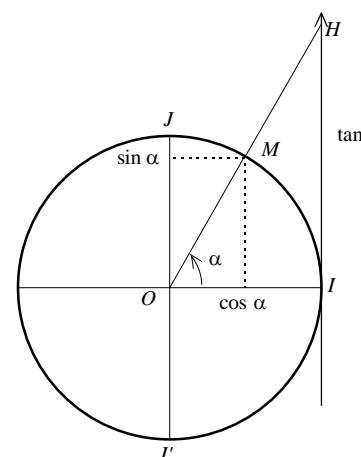
degrés	180	x
radians	π	α



Exemple : convertir 60° en radians : cela donne $\alpha = \frac{60\pi}{180} = \frac{\pi}{3}$ rad.

II) Cercle trigonométrique et définition du sinus, du cosinus et de la tangente

Munissons le plan d'un repère orthonormé $(O ; I, J)$. Le cercle trigonométrique est le cercle de centre O et de rayon 1 orienté dans le sens direct (sens contraire des aiguilles d'une montre). Soit M un point du cercle tel que α soit une mesure, en radians, de l'angle orienté $(\overrightarrow{OI}, \overrightarrow{OM})$.



Définition du sinus et du cosinus :

On appelle **cosinus** et **sinus** de α , et on note $\cos \alpha$ et $\sin \alpha$, les coordonnées du point

M dans le repère $(O ; I, J)$: $\overrightarrow{OM} = (\cos \alpha) \overrightarrow{OI} + (\sin \alpha) \overrightarrow{OJ}$.

Définition de la tangente :

Soit Δ la droite (verticale) d'équation $x = 1$ dans le repère $(O ; I, J)$ et H le point défini par $(OM) \cap \Delta$.

Ce point H existe dès lors que Δ et (OM) ne sont pas parallèles, c'est-à-dire dès que M n'est ni en $J(0 ; 1)$, ni en

$J'(0 ; -1)$, c'est-à-dire dès que $\alpha \neq \frac{\pi}{2} + 2k\pi$ ($k \in \mathbb{Z}$).

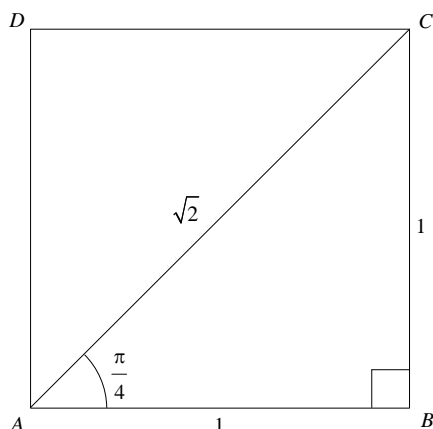
On appelle **tangente** de α , et on note $\tan \alpha$, l'ordonnée du point H dans le repère $(O ; I, J)$

Le tableau ci-dessous rappelle les valeurs du sinus, du cosinus et de la tangente pour des valeurs particulières de l'angle α (en radians) :

α	0	$\frac{\pi}{6}$	$\frac{\pi}{4}$	$\frac{\pi}{3}$	$\frac{\pi}{2}$
sin α	0	$\frac{1}{2}$	$\frac{\sqrt{2}}{2}$	$\frac{\sqrt{3}}{2}$	1
cos α	1	$\frac{\sqrt{3}}{2}$	$\frac{\sqrt{2}}{2}$	$\frac{1}{2}$	0
tan α	0	$\frac{\sqrt{3}}{3}$	1	$\sqrt{3}$	NON DÉFINIE !

Démonstration :

Pour calculer les valeurs de $\sin \frac{\pi}{4}$ et $\cos \frac{\pi}{4}$, on exploite la diagonale du carré (de côté 1) :



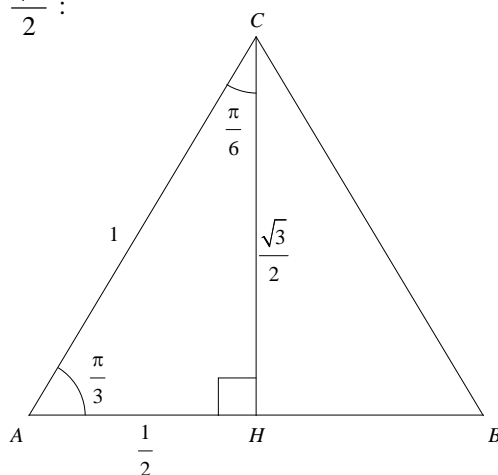
Dans le triangle ABC rectangle en B , on a : $\sin \frac{\pi}{4} = \frac{BC}{AC} = \frac{1}{\sqrt{2}} = \frac{\sqrt{2}}{2}$

$$\cos \frac{\pi}{4} = \frac{AB}{AC} = \frac{1}{\sqrt{2}} = \frac{\sqrt{2}}{2}$$

$$\tan \frac{\pi}{4} = \frac{BC}{AB} = 1$$

Pour calculer les valeurs du sinus, du cosinus et de la tangente de $\frac{\pi}{3}$ et $\frac{\pi}{6}$, on exploite naturellement la configuration du triangle équilatéral de côté 1 avec une de ses hauteurs qui au passage d'après le théorème de

Pythagore mesure $\sqrt{1^2 - \left(\frac{1}{2}\right)^2} = \frac{\sqrt{3}}{2}$:



Dans le triangle AHC rectangle en H , on a :

$$\sin \frac{\pi}{6} = \frac{AH}{AC} = \frac{1}{2} ; \cos \frac{\pi}{6} = \frac{CH}{AC} = \frac{\sqrt{3}}{2} ; \tan \frac{\pi}{6} = \frac{AH}{CH} = \frac{\frac{1}{2}}{\frac{\sqrt{3}}{2}} = \frac{1}{\sqrt{3}} = \frac{\sqrt{3}}{3}$$

$$\sin \frac{\pi}{3} = \frac{CH}{AC} = \frac{\sqrt{3}}{2} ; \cos \frac{\pi}{3} = \frac{AH}{AC} = \frac{1}{2} ; \tan \frac{\pi}{3} = \frac{CH}{AH} = \frac{\frac{\sqrt{3}}{2}}{\frac{1}{2}} = \sqrt{3}$$

Pour les autres cas d'angles remarquables, on retrouve les valeurs du sinus, du cosinus et de la tangente par symétrie comme l'illustre le cercle⁽¹⁾ ci-dessous :

Propriétés élémentaires du sinus et du cosinus :

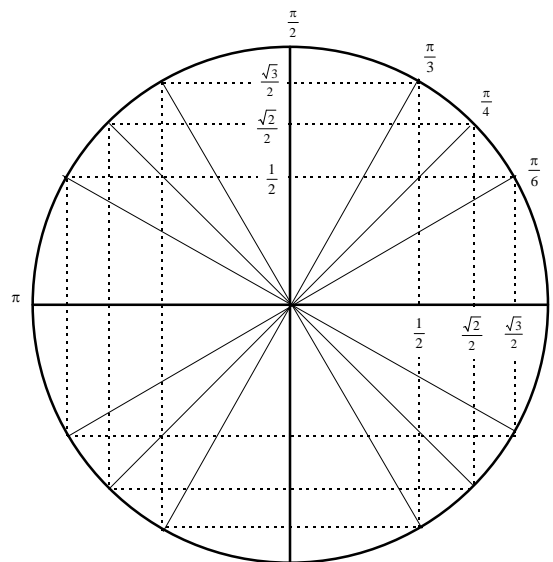
$$\cos(x + 2k\pi) = \cos x$$

$$\sin(x + 2k\pi) = \sin x$$

$$\cos^2 x + \sin^2 x = 1$$

$$-1 \leq \cos x \leq 1$$

$$-1 \leq \sin x \leq 1$$



Exercice : sachant que $\cos \frac{\pi}{12} = \frac{\sqrt{6} + \sqrt{2}}{4}$, calculer la valeur exacte de $\sin \frac{\pi}{12}$.

C'est un exercice qui n'est pas si simple ! Déjà, nous disposons d'une relation entre le sinus et le cosinus :

$$\cos^2 x + \sin^2 x = 1$$

En particulier, avec $x = \frac{\pi}{12}$: $\cos^2 \frac{\pi}{12} + \sin^2 \frac{\pi}{12} = 1$

Calculons $\cos^2 \frac{\pi}{12}$: $\cos^2 \frac{\pi}{12} = \left(\frac{\sqrt{6} + \sqrt{2}}{4} \right)^2 = \frac{6 + 2\sqrt{12} + 2}{16} = \frac{2 + \sqrt{3}}{4}$

D'où : $\sin^2 \frac{\pi}{12} = 1 - \cos^2 \frac{\pi}{12} = 1 - \frac{2 + \sqrt{3}}{4} = \frac{2 - \sqrt{3}}{4}$

(Remarque : $\frac{2 - \sqrt{3}}{4}$ est bien un nombre positif puisque $2 > \sqrt{3}$)

Tenant compte de la relation $\sqrt{A^2} = |A|$, nous obtenons :

$$|\sin \frac{\pi}{12}| = \sqrt{\frac{2 - \sqrt{3}}{4}}$$

Or, $\sin \frac{\pi}{12} \geq 0$ car $\frac{\pi}{12} \in [0 ; \pi]$. Donc : $\sin \frac{\pi}{12} = \sqrt{\frac{2 - \sqrt{3}}{4}}$

Enfin, n'y a-t-il pas une écriture plus simple ?

Dans ce cas, oui ! En effet : $4 - 2\sqrt{3} = 1 - 2\sqrt{3} + 3 = (1 - \sqrt{3})^2$

Donc : $2 - \sqrt{3} = \frac{(1 - \sqrt{3})^2}{2}$

Et $\sin \frac{\pi}{12} = \frac{|1 - \sqrt{3}|}{2\sqrt{2}}$

Et comme $\sqrt{3} > 1$: $\sin \frac{\pi}{12} = \frac{1 - \sqrt{3}}{2\sqrt{2}} = \frac{\sqrt{3} - 1}{2\sqrt{2}} = \frac{\sqrt{6} - \sqrt{2}}{4}$

⁽¹⁾ Pour un cercle trigonométrique complet, voir : http://perso.wanadoo.fr/gilles.costantini/Lycees_fichiers/CoursP_fichiers/cercle.pdf

III) Fonctions sinus et cosinus

Rappel : une fonction f est dite périodique, de période T si pour tout réel x on a : $f(x + T) = f(x)$.

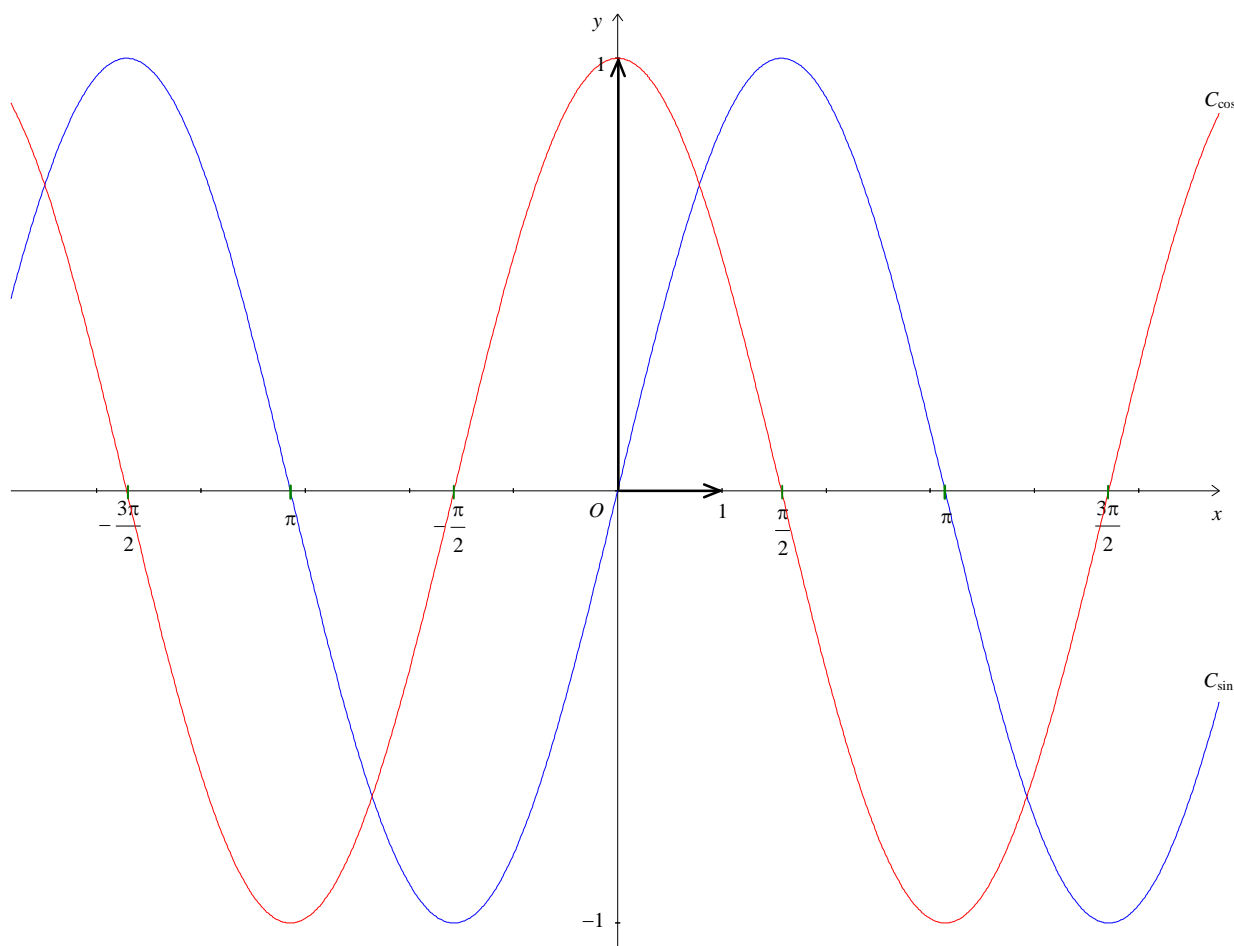
Notons que si T est une période, tout multiple de T en est une autre :

$$\dots = f(x + 2T) = f(x + T) = f(x) = f(x - T) = f(x - 2T) = \dots$$

Pour étudier (ou tracer) une fonction périodique, on se limite à une période.

Théorème : Les fonctions sinus et cosinus sont périodiques de période 2π . De plus, la fonction cosinus est paire et la fonction sinus est impaire ($\cos(-x) = \cos x$ et $\sin(-x) = -\sin x$)

Représentation graphique des fonctions sinus et cosinus :

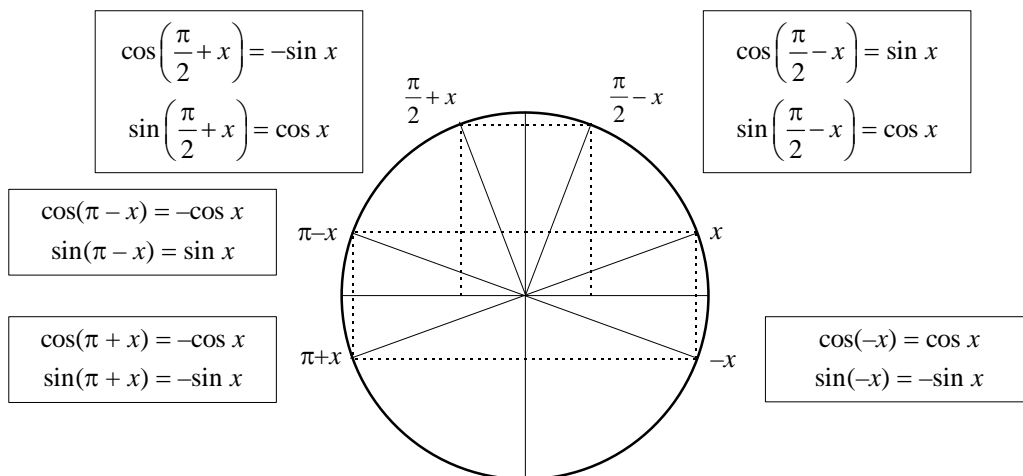


Les courbes ci-dessus sont appelées des sinusoides.

Exercice : dresser le tableau de variations de la fonction sinus sur l'intervalle $[-\pi ; \pi]$, et le tableau de variations de la fonction cosinus sur l'intervalle $[0 ; \pi]$.

IV) Relations entre le sinus et le cosinus

Une lecture efficace du cercle trigonométrique permet de retrouver⁽¹⁾ les relations suivantes :



Exercice : simplifier les expressions suivantes : $\cos(-\pi - x)$; $\sin\left(x - \frac{\pi}{2}\right)$; $\cos^2(-x) + \sin^2(\pi - x)$

V) Fonction tangente

Soit x un réel tel que $\cos x \neq 0$. On appelle tangente de x le réel noté **tan** x et défini par $\tan x = \frac{\sin x}{\cos x}$

De ce fait, $\tan x$ est définie lorsque $x \neq \frac{\pi}{2} + k\pi$ (où k est un entier relatif).

Exercice 1 : Calculer $\tan x$ pour $x = \frac{5\pi}{6}$; $\frac{3\pi}{4}$; $\frac{\pi}{12}$. (Voir ci-dessus pour les valeurs de $\cos \frac{\pi}{12}$ et $\sin \frac{\pi}{12}$)

Exercice 2 : Soit x un réel de l'intervalle $\left[\frac{\pi}{2}; \pi\right]$ tel que $\sin x = -\frac{\sqrt{3}}{2}$. Calculer $\cos x$ et $\tan x$.

VI) Fonctions dérivées des fonctions circulaires

Fonction	Dérivée
$\sin t$	$\cos t$
$\cos t$	$-\sin t$
$\sin(\omega t + \varphi)$	$\omega \cos(\omega t + \varphi)$

Fonction	Dérivée
$\cos(\omega t + \varphi)$	$-\omega \sin(\omega t + \varphi)$
$\tan t$	$1 + \tan^2 t = \frac{1}{\cos^2 t}$

Exercice 1 : en utilisant la formule de la dérivée d'un quotient, démontrer le résultat ci-dessus concernant la dérivée de la fonction tangente.

Exercice 2 : dériver les fonctions suivantes : $f(x) = \sin 2x$; $g(x) = 2 \sin x \cos x$; $h(x) = \sin^2 x$

⁽¹⁾ Pour une démonstration, voir ce document : http://perso.wanadoo.fr/gilles.costantini/Lycees_fichiers/CoursP_fichiers/relametr.pdf

VII) Formulaire de trigonométrie⁽¹⁾

Formules d'addition

$$\cos(a - b) = \cos a \cos b + \sin a \sin b$$

$$\cos(a + b) = \cos a \cos b - \sin a \sin b$$

$$\sin(a - b) = \sin a \cos b - \cos a \sin b$$

$$\sin(a + b) = \sin a \cos b + \cos a \sin b$$

Formules de duplication

$$\cos 2a = \cos^2 a - \sin^2 a$$

$$\sin 2a = 2 \sin a \cos a$$

Formules de linéarisation

$$\cos^2 a = \frac{1 + \cos 2a}{2}$$

$$\sin^2 a = \frac{1 - \cos 2a}{2}$$

Exercice 1 : calculer $\cos \frac{\pi}{12}$ et $\sin \frac{\pi}{12}$ à l'aide de l'égalité $\frac{\pi}{12} = \frac{\pi}{3} - \frac{\pi}{4}$ et des formules d'addition.

Exercice 2 : calculer $\cos \frac{\pi}{8}$ et $\sin \frac{\pi}{8}$ à l'aide des formules de linéarisation.

VIII) Résolution des équations $\cos x = a$ et $\sin x = a$ ($x \in \mathbb{R}$)

Si $a \notin [-1 ; 1]$ alors ces équations n'ont pas de solutions (car $-1 \leq \cos x \leq 1$ et $-1 \leq \sin x \leq 1$)

Si $a \in [-1 ; 1]$, elles en ont une infinité :

Pour $\cos x = a$: on résout déjà l'équation sur l'intervalle $[0 ; 2\pi]$ en cherchant à l'aide du cercle trigonométrique les deux angles α et $-\alpha$ dont le cosinus vaut a . On trouve les autres solutions de l'équation en ajoutant les multiples de 2π .

$$\cos x = a \Leftrightarrow x = \alpha + 2k\pi \text{ ou } x = -\alpha + 2k\pi, k \in \mathbb{Z}$$

Pour $\sin x = a$: on résout déjà l'équation sur l'intervalle $[0 ; 2\pi]$ en cherchant à l'aide du cercle trigonométrique les deux angles α et $\pi - \alpha$ dont le sinus vaut a . On trouve les autres solutions de l'équation en ajoutant les multiples de 2π .

$$\sin x = a \Leftrightarrow x = \alpha + 2k\pi \text{ ou } x = \pi - \alpha + 2k\pi, k \in \mathbb{Z}$$

Exercice : Résoudre les équations suivantes :

$$\cos x = -0,5 \text{ pour } x \in \mathbb{R} ; \sin x = -\frac{\sqrt{3}}{2} \text{ pour } x \in \mathbb{R} ; 2\sin(3x) = 1 \text{ pour } x \in [0 ; 6\pi].$$

⁽¹⁾ Pour une démonstration, voir ce document : http://perso.wanadoo.fr/gilles.costantini/Lycees_fichiers/CoursP_fichiers/relametr.pdf

IX) Coordonnées polaires

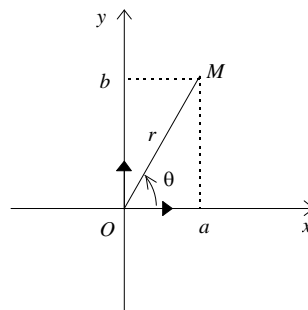
Soit M un point du plan représenté par des coordonnées (a, b) dans un repère orthonormé $(O; \vec{i}, \vec{j})$.

Les coordonnées (a, b) sont dites cartésiennes ou rectangulaires.

Supposons $M \neq O$ et notons r la distance OM et θ l'angle (\vec{i}, \overline{OM}) .

Le couple $[r, \theta]$ est appelé couple de coordonnées polaires du point M .

$$\begin{aligned} r^2 &= a^2 + b^2 \\ a &= r \cos \theta \\ b &= r \sin \theta \end{aligned}$$



Les relations ci-dessus permettent de convertir les coordonnées polaires en cartésiennes et vice-versa.

Exemples :

1. Soit $M \left[2; \frac{\pi}{3} \right]$. Déterminer les coordonnées cartésiennes (a, b) de M :

$$a = 2 \cos \frac{\pi}{3} = 2 \times \frac{1}{2} = 1$$

$$b = 2 \sin \frac{\pi}{3} = 2 \times \frac{\sqrt{3}}{2} = \sqrt{3}$$

Les coordonnées cartésiennes de M sont : $(1; \sqrt{3})$

2. Soit $N(2; -2)$. Déterminer les coordonnées polaires $[r, \theta]$ de N :

$$r^2 = a^2 + b^2 = 8$$

Et comme $r > 0$:

$$r = 2\sqrt{2}$$

D'où :

$$\begin{cases} \cos \theta = \frac{a}{r} = \frac{\sqrt{2}}{2} \\ \sin \theta = \frac{b}{r} = -\frac{\sqrt{2}}{2} \end{cases}$$

Par lecture du cercle trigonométrique, on a : $\theta = -\frac{\pi}{4}$

D'où : $N \left[2\sqrt{2}; -\frac{\pi}{4} \right]$